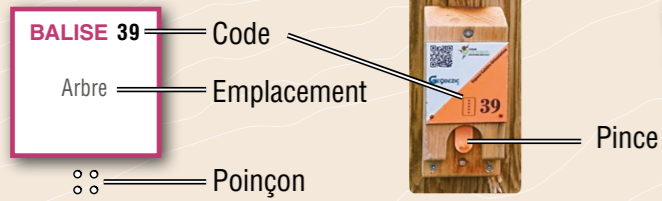


Comment ça marche ?

- 1- Orienter la carte et repérer le départ.
- 2- Choisir un itinéraire pour aller du départ à la balise ①.



- 3- Utiliser la pince pour poinçonner.
- 4- Répondre à la question du dépliant.
- 5- Continuer vers les balises suivantes en respectant l'ordre.

Bonne découverte !

PARCOURS Ludique

Difficulté en orientation Facile

Accès 4 saisons

➔ 4,5 km | 11 balises

⚓ +100 m | ⌚ +/- 1h30

Recommandations

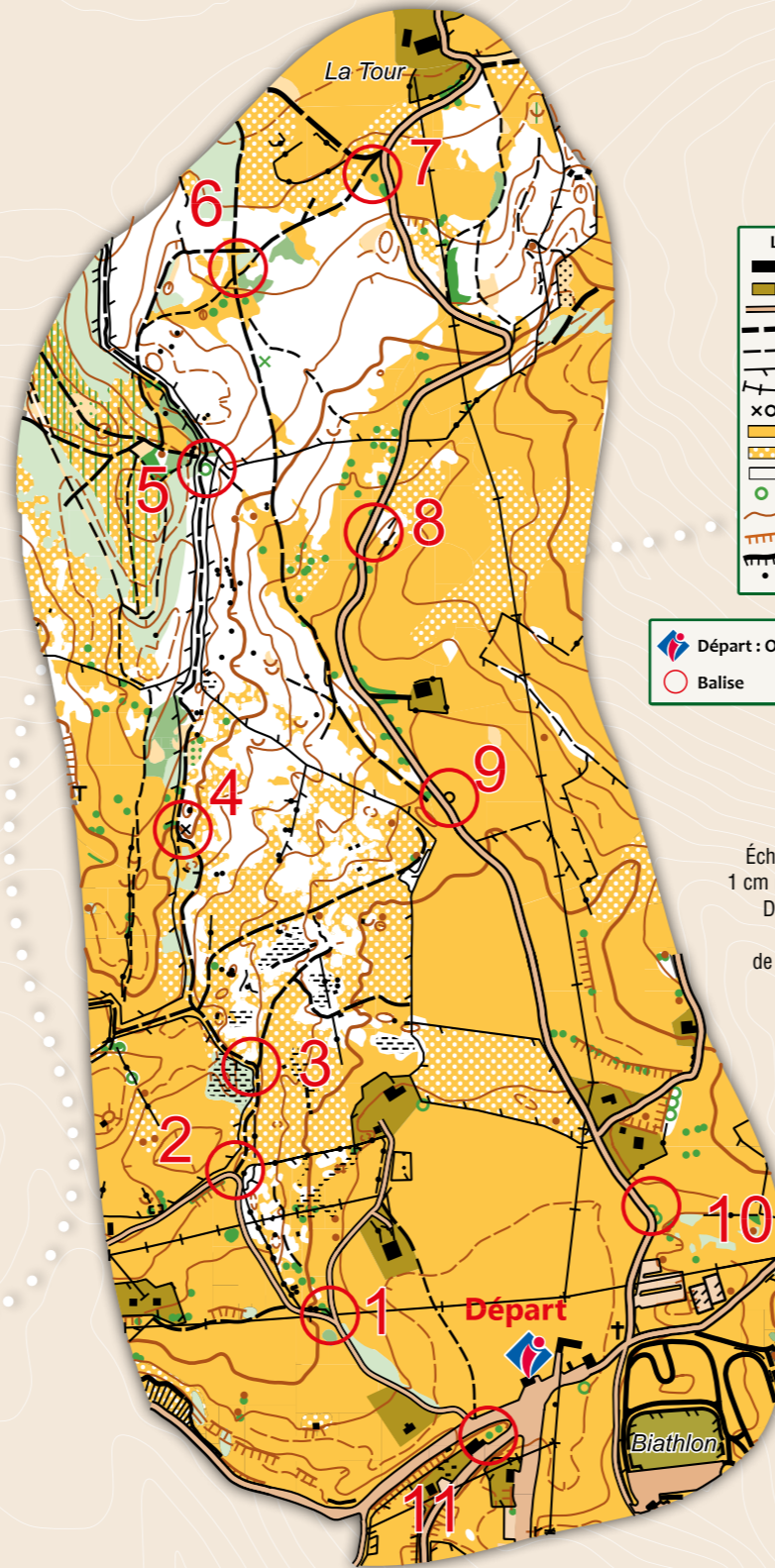
Il est de la responsabilité de tout pratiquant d'estimer ses capacités à pouvoir pratiquer la course d'orientation sur cet espace.

- Refermez systématiquement les portillons de clôtures après votre passage.
- Pendant la période estivale, respectez les troupeaux en pâture, les cultures et les prairies de fauche.
- Respectez les aires de stationnement, les propriétés privées et la réglementation.
- Ramassez vos déchets, ne laissez rien sur site.
- Restez sur les chemins balisés.
- Respectez la signalisation et la réglementation en vigueur.
- Vous allez croiser des troupeaux d'animaux d'élevage et des chiens de bergers. Contournez-les à bonne distance.
- Tenez votre chien en laisse.
- Respectez les aménagements : clôtures, points d'eau, chalets d'alpage.



L'application Suricate permet de signaler les problèmes que vous rencontrez lors de la pratique d'un sport de nature (erreur de balisage, besoin de sécurisation...)

Numéro d'urgence 112



LEGENDE	
	Bâtiment
	Propriété privée
	Route
	Chemin
	Sentier
	Clôture
	Ligne électrique
	Objets particuliers
	Prairie
	Arbres dispersés
	Forêt
	Arbre isolé
	Courbe de niveau
	Talus
	Falaise
	Rocher

Départ : Office de Tourisme
 Balise

N
 Échelle : 1/10000°
 1 cm représente 100m
 Dénivelé entre 2 courbes de niveau : 10 m

Carte de course d'orientation 2007 / Cartographe : M. Cotirra / La reproduction de l'ensemble des supports cartographiques est autorisée pour l'usage unique de ce parcours permanent d'orientation et à l'exclusion de tout autre usage. Cet équipement a été mis en place avec l'assistance technique de la Ligue Auvergne Rhône Alpes de course d'orientation / Crédit photo : L. Madelon / Crédit illustration : Fanny Le Bagousse / Édition 2022

Réponses : 1-R2 / 2-R3 - / 3-LA PIE A (LAPIAZ) / 4- COUCOU-PIC-GRIMPEREAU-PINSON-ROITTELET-CHOUETTE / 5-R1 / 6-A3-B2-C1-D4 / 7-R2 et R4 / 8-R2, R4, R5 et R6 / 9-LA BIODIVERSITE / 10-R3 / 11-R2

Les Plans d'Hottonnes

Parcours d'Orientation ludique enfants




BALISE 31

jonction de routes



1 Les fermes isolées

Regarde la ferme en bas à droite. Il y en a plusieurs dans la région. Autrefois, la station de ski n'existait pas et les gens qui vivaient ici étaient isolés. Pourquoi venaient-ils habiter ici ?



- 1 - Ils ne voulaient voir personne
- 2 - Il y avait de la place pour élever des vaches
- 3 - Il y avait de la forêt pour se cacher

BALISE 32

jonction route chemin



2 Les troupeaux

Les troupeaux sont quelquefois gardés par des chiens de protection (patous, bergers portugais, bergers d'Anatolie...) qui peuvent venir vers toi. Que dois-tu faire si l'un d'eux s'approche de toi ?



- 1 - Je m'avance vers le chien pour le caresser
- 2 - Je prends un selfie souvenir avec le chien
- 3 - Je garde mes distances, je reste calme et je contourne le troupeau
- 4 - Je pars en courant

BALISE 33

coude chemin



3 La roche

La roche d'ici s'appelle du calcaire. Si tu entres dans la forêt à gauche du chemin, tu trouveras des rochers. Grâce à cette charade, trouve le nom de cette formation rocheuse :

Mon premier est une note de musique entre le 'sol' et le 'si',
 Mon deuxième est un oiseau noir et blanc qui est bavard,
 Mon troisième est la première lettre de l'alphabet.



BALISE 34

nichoirs



4 Les oiseaux

Plusieurs espèces d'oiseaux vivent dans cette forêt. Retrouve les noms de 6 d'entre eux dans la grille.

R	E	P	I	N	S	O	N	T	O
G	R	I	M	P	E	R	E	A	U
C	A	X	O	M	K	L	Y	T	C
O	F	G	H	J	E	L	M	W	O
U	C	P	V	T	B	N	A	E	U
C	T	Y	I	U	O	P	S	D	E
O	G	O	H	C	K	J	L	M	F
U	R	C	H	O	U	E	T	T	E

11 L'ancienne fruitière

Le bâtiment à côté de vous est l'ancienne fruitière, le lieu où l'on transformait le lait des vaches en fromage. Ce sont les "fruits" du travail. À ton avis, combien de litres de lait faut-il pour former 1 kg de Comté ?

- 1 - 1 litre de lait
- 2 - 10 litres de lait
- 3 - 100 litres de lait



BALISE 41

arbre



Parcours d'orientation ludique des Plans d'Hotonnes

- 1 CHOUETTE
- 2 GRIMPEREAU
- 3 COUCOU
- 4 PINSON
- 5 ROITELET
- 6 PIC

5 Le hêtre

Descends le petit chemin à droite et avance de 20 mètres. Te voilà dans la forêt. Tous les grands arbres que tu vois autour de toi sont des hêtres. De quoi un hêtre a-t-il besoin pour survivre ? Remonte ensuite sur le chemin principal pour continuer le parcours.

- 1 - De lumière et d'eau
- 2 - De hamburgers et de sodas
- 3 - De lumière et d'insectes qui mangent le bois

BALISE 35

hêtre

10 Les prés de fauche

L'herbe des prés autour de toi est coupée au début de l'été. Pourquoi appelle-t-on ces prairies des prés de fauche ?

- 1 - Pour préparer les pistes de ski pour l'hiver
- 2 - Pour pouvoir faire du golf dans les prés
- 3 - Pour faire sécher l'herbe afin de la donner à manger aux vaches et aux moutons l'hiver quand il y a de la neige

BALISE 40

arbre particulier



9 Espace protégé

Tout l'espace où tu te promènes est protégé par la loi et bénéficie d'une reconnaissance au niveau de l'Europe (Natura 2000) car il y a une grande variété d'espèces animales et végétales différentes. Remplace chaque lettre par celle d'avant dans l'alphabet pour découvrir comment on appelle cette variété d'espèces.

MB CJPEJWFSTJUF

BALISE 39

poteau bois



8 La station

D'ici, tu peux voir le domaine skiable sur la montagne d'en face. Quelles activités peut-on faire dans la station en hiver ? Il y a plusieurs réponses possibles.

- 1 - Du saut à skis
- 2 - Des raquettes
- 3 - Du curling
- 4 - Du ski alpin
- 5 - Du biathlon
- 6 - Du ski de fond



BALISE 38

poteau bois



7 La rareté de l'eau

Ici, sur le sol de roche calcaire, l'eau est rare et les habitants devaient la collecter et la stocker pour boire et faire boire les troupeaux. Comment faisaient-ils ? Il y a plusieurs réponses possibles.

- 1 - Ils chantaient pour qu'il pleuve
- 2 - Ils récupéraient l'eau de pluie sur les toits et la stockaient dans une citerne
- 3 - Ils creusaient des puits
- 4 - Ils créaient des mares artificielles : les goyas
- 5 - Ils recyclaient l'eau usée



BALISE 37

bosquet



6 La forêt

Ici, il y a plusieurs espèces d'arbres : le hêtre, l'aulépine, le noisetier, l'alisier blanc, et d'autres encore ! Relie chaque feuille au nom de l'arbre. Indices : la feuille de l'alisier blanc, a un côté plutôt blanc. La feuille du noisetier est la plus grande. Celle de l'aulépine la plus petite.



- 1 - Le hêtre
- 2 - L'aulépine
- 3 - Le noisetier
- 4 - L'alisier blanc

BALISE 36

bosquet

