

BALADES LUDIQUES

POUR PETITS ET GRANDS

Les Vans



©Matthieu Dupont - OT Cévennes d'Ardèche

Infos Locales :

- **Marché** nocturne estival le mardi soir / Marché tout au long de l'année le samedi matin
- **Musée des Vans** : Situé en bordure du centre ancien des Vans, le musée est installé dans les bâtiments d'un ancien couvent et d'une ancienne filature de soie. À travers cinq expositions le musée dévoile les différentes facettes d'un territoire très contrasté mais qui forme un tout singulier : la Cévenne ardéchoise. Les collections de géologie, d'archéologie, d'ethnographie et de médecine font découvrir la nature, la culture ou la personnalité des hommes qui ont façonné cette région historique. L'établissement bénéficie du label « Musée de France ». Ouvert aux initiatives contemporaines, le musée organise régulièrement des expositions temporaires et accueille des événements : concert, lecture, conférence...
- Tous les mercredis, atelier enfants "le musée à la loupe". Un atelier découverte conçu pour les enfants et encadré par une médiatrice du musée. Les enfants parcourent le musée, cherchent, découvrent et comprennent l'histoire de la région. 6 à 10 ans, accompagnés d'un adulte. Environ 1h. Réservation conseillée.
- **Naves - Village de caractère** : À 1.5 km des Vans, accroché aux premiers reliefs des Cévennes et lové dans ses collines plantées d'oliviers, Naves se situe à un carrefour géologique que vous pourrez découvrir le temps d'une balade au cœur du Géosite, le Cirque de Naves.
- **Visites patrimoniales** organisées tous les étés sur le Pays des Vans en Cévennes (Banne, Naves, Les Vans, Commanderie templière de Jalès, Chambonas) - Renseignements et inscriptions à l'office de tourisme Cévennes d'Ardèche.

Visiter,
se balader,
s'amuser!



Cévennes
d'Ardèche

OFFICE DE TOURISME

Office de Tourisme Cévennes d'Ardèche
Bureau des Vans
17 Place Léopold Ollier,
07140 Les Vans
Tél. : 04 75 37 24 48
www.cevennes-ardeche.com

Facile



2,5 km

1h30

Les Vans

Départ: Parking vers l'office de tourisme**GPS: 44.405404N / 4.130198E**

Carnet de route

Tout au long du parcours, soyez très vigilant avec les enfants sur le bord des routes.

Débuter la balade au Bureau de l'office de tourisme. Traverser la route et longer la place Ollier sur sa partie gauche. Traverser la route et emprunter la rue Droite. Observer le linteau de porte du n° 1 **1**.

Descendre pour arriver à la place de la Fontaine. Prendre ensuite la rue de la Fusterie sous le passage vouté à gauche. Suivre la ruelle, au bout, prendre à droite puis de suite à gauche pour retrouver la place de la Fontaine. Derrière la fontaine, suivre la rue Courte pour arriver devant l'église, place du Cancel **2**.

Suivre la rue qui longe l'église par la gauche.

Arriver sur la place de l'Oie. Observer la

fontaine **3**.

Aller jusqu'à l'entrée du parking, le longer sur la gauche en empruntant le chemin du Rousselet.

Prendre la 1^{ère} à droite, rue du Couvent, monter un peu et retourner vous pour observer les tuiles vernissés de l'église du couvent **4**.

Continuer jusqu'au lavoir **5**.

Emprunter ensuite la toute petite ruelle qui monte, à gauche de la rue de la Calade.

Au bout de la ruelle, continuer tout droit pour déboucher sur la route départementale. Aller observer l'entrée du temple protestant **6**.

Descendre la route départementale sur le trottoir de droite et prendre la 1^{ère} à droite, rue de la calade.

La descendre sur une dizaine de mètres

et prendre la rue des Masseguisses. Juste avant de retrouver la place de la Fontaine, observer le linteau de fenêtre de la dernière maison de la rue à droite **7**.

Remonter la rue du Marché à gauche pour retrouver la place Ollier. Traverser la place pour aller voir la statue de Léopold Ollier **8**.

Revenir à l'office de tourisme pour terminer la balade.

Soyez vigilants avec vos enfants notamment sur les zones non piétonnes. Le parcours s'effectue sous votre entière responsabilité. La société Randoland et l'office de tourisme déclinent toute responsabilité en cas d'accident.





Les Vans

L'Inspecteur Rando (en bas à droite) part en balade. Mais par où va-t-il passer ?
 Pour découvrir le chemin emprunté, réponds aux questions de la page suivante.
 Chaque réponse t'indiquera l'étape suivante de l'Inspecteur Rando dans le labyrinthe.
 Attention, l'Inspecteur Rando ne doit jamais revenir sur ses pas !
 Chaque fois qu'il trouvera une friandise sur sa route, colorie, dans l'ordre, un bonbon de la frise.
 En fin de parcours, note dans la case réponse le nombre de bonbons trouvés.



1 2 3 4 5 6 7 8 9 10


Ta réponse



1 Rue Droite, n° 1


Quelle lettre peux-tu voir sur le linteau de porte du n° 1 de la rue ?

Tu vas découvrir la première étape de l'Inspecteur Rando.



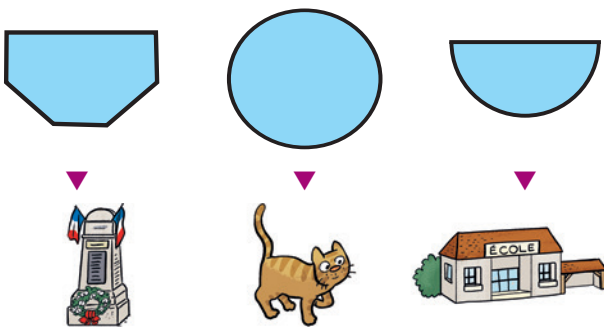
2 L'église

Observe la vierge à l'entrée de l'église, comment sont positionnés ses bras ?




3 La fontaine

Quelle forme correspond au bassin de la fontaine ?



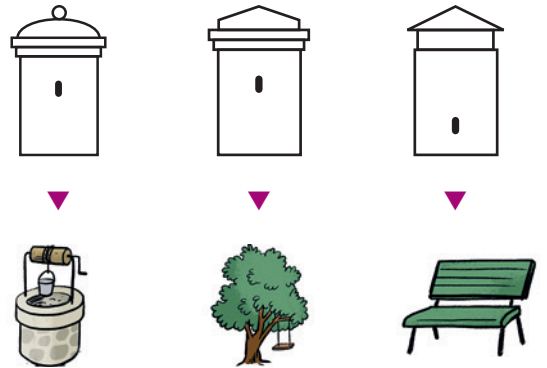
4 Les tuiles vernissées du couvent

Quelle figure géométrique vois-tu sur le petit toit ?



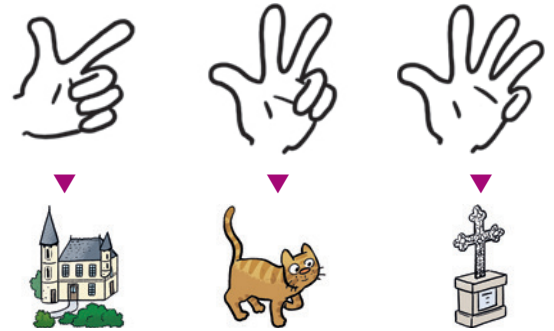
5 Le lavoir

Observe l'arrivée d'eau du lavoir. Quel schéma lui ressemble le plus ?



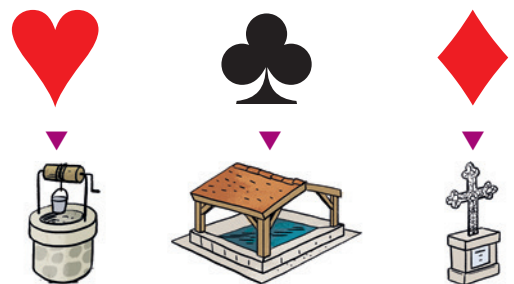
6 Le temple protestant

Combien de piliers ronds comptes-tu à l'entrée du temple ?



7 Rue des Masseguisses

Quel symbole vois-tu sur le linteau de fenêtre au début de la rue ?



8 La statue de Léopold Ollier

Demande à un grand de te montrer l'année de naissance de Léopold Ollier. Quel nuage de chiffre lui correspond ?





ÉNIGME

Cette année Julie est allée visiter le musée des Vans. Elle a été très impressionnée par tous les instruments incroyables présentés dans la salle d'exposition sur la médecine ! Elle a appris plein de choses sur l'histoire du Pays des Vans et sur l'archéologie. Elle a même participé à un atelier : munie de loupe, boussole et autres objets, elle est partie à la recherche de fossiles cachés dans le sol ou encore d'objets artisanaux du début du XX^e siècle. Au cours de cette activité elle s'est fait un super copain : Lucas ! À l'heure de se quitter, les deux amis se promettent de s'écrire...

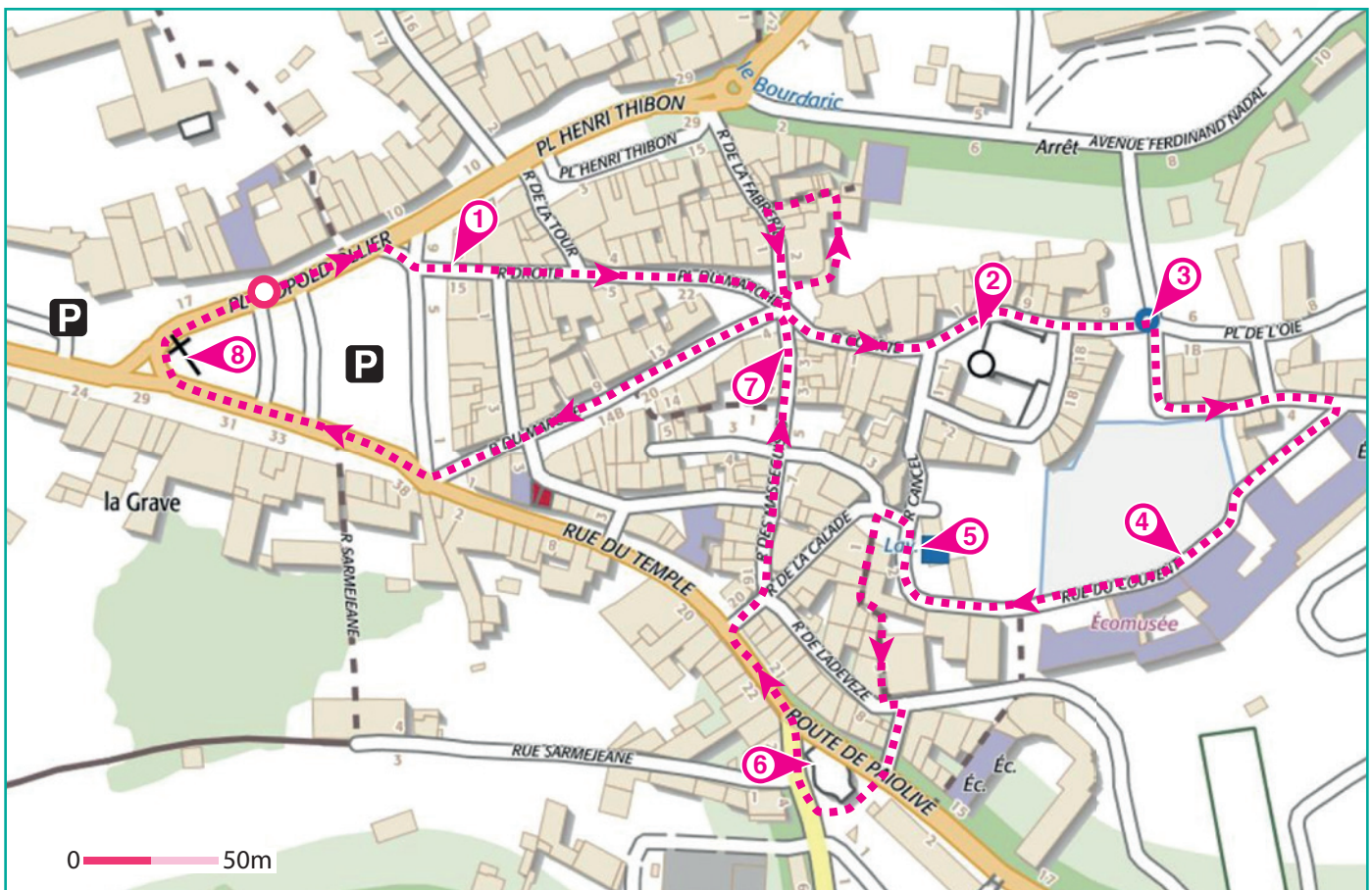
De retour chez elle, Julie s'aperçoit que le papier sur lequel Lucas a noté son nom et son adresse a pris l'eau. Le nom est illisible et Julie n'en garde aucun souvenir. Elle décide alors de demander de l'aide à l'inspecteur Rando. Ils ont maintenant besoin d'un enquêteur sur le terrain. Sauras-tu leur venir en aide ?



Tu disposes du plan ci-dessous.

À l'emplacement des pastilles numérotées, lis les indications qui te permettront de résoudre l'énigme principale.

À la fin de ta balade, rends-toi à l'office de tourisme ou sur le site randoland.fr pour vérifier ta réponse.





Pour toutes les activités de cette fiche, reporte dans la grille de bas de page les réponses trouvées en face des nombres correspondants.

1 Rue Droite, n° 1

Cherche la date gravée sur le linteau de porte du n° 1 de la rue. Classe les chiffres qui la composent dans l'ordre croissant (du plus petit au plus grand), dans les cases ci-dessous.

□ < □ < □ < □

Inscris **en lettres**, dans la grille, le chiffre de la case bleutée.

2 L'église

Deux amis discutent de la vierge au-dessus de l'entrée de l'église :

LUCAS : La vierge a les bras joints, comme si elle priait !


TIMÉO : Pas du tout elle à les deux bras dirigés vers le sol !

Note le prénom de celui qui dit la vérité dans la grille.



3 La fontaine

Des enfants ont dessiné la forme du bassin de la fontaine. Voici leurs dessins :



FÉLIX THOMY JADES

Maintenant classe les lettres du prénom de celui qui a réalisé le bon schéma, dans l'ordre alphabétique.

Ex. : LÉA → AEL

Inscris ta réponse dans la grille.

4 Les tuiles vernissées du couvent

Des amis discutent du toit du couvent :

FATIMA : Les tuiles vernissées sont très colorées, j'en vois de très jolies rouges et vertes !

RAYHAN : On distingue le dessin d'une croix au centre du toit.

ARTHUR : Ce n'est pas une croix ! C'est une étoile !

Reporte le nom de celui qui dit vrai dans la grille.

5 Le lavoir

Des amis ont fait le schéma de l'endroit par où arrive l'eau dans le lavoir. Voici leur croquis :



CÉLIA LUCIE AMBRE

Reporte, dans la grille, le prénom de celui qui a réalisé le bon dessin.

6 Le temple protestant

Combien de colonnes rondes comptes-tu à l'entrée du temple ?

Note ta réponse **en lettres** dans la grille.

7 Rue des Masseguisses

Quel symbole est gravé sur le linteau de fenêtre au début de la rue ?

Écris ta réponse dans la grille.

8 La statue de Léopold Ollier

Lis la plaque fixée sur le socle de la statue. et Complète la phrase ci-dessous :

Léopold Ollier était le père de l'orthopédie moderne, ses travaux sur le périoste firent de lui un _____ de renommée internationale.

Inscris le mot manquant dans la grille.

Grille réponse

Circuit n° 0733401M

1 >										
2 >										
3 >										
4 >										
5 >										
6 >										
7 >										
8 >										



Remets en ordre les caractères des cases colorées pour retrouver le nom de famille de Lucas.

Ta réponse : [Colorful boxes containing letters]



Les Vans

ÉNIGME

Léopold Ollier est un chirurgien de renommée internationale né aux Vans. Le musée des Vans porte d'ailleurs son nom et une partie de sa collection lui est dédiée, tu pourras même observer sa statue sur la place qui porte son nom au cœur de la commune. On dit de lui que c'est le père de l'orthopédie moderne. Il a eu une longue carrière et a enseigné son savoir à de nombreux étudiants. Parmi eux figure un homme qui fonda à Lyon en 1910 le premier laboratoire de police scientifique au monde.

Grâce à ton flair et à l'aide de l'Inspecteur Rando, sauras-tu trouver, dans la liste ci-dessous, de qui il s'agit ?



©Matthieu Dupont - OT Cévennes d'Ardèche

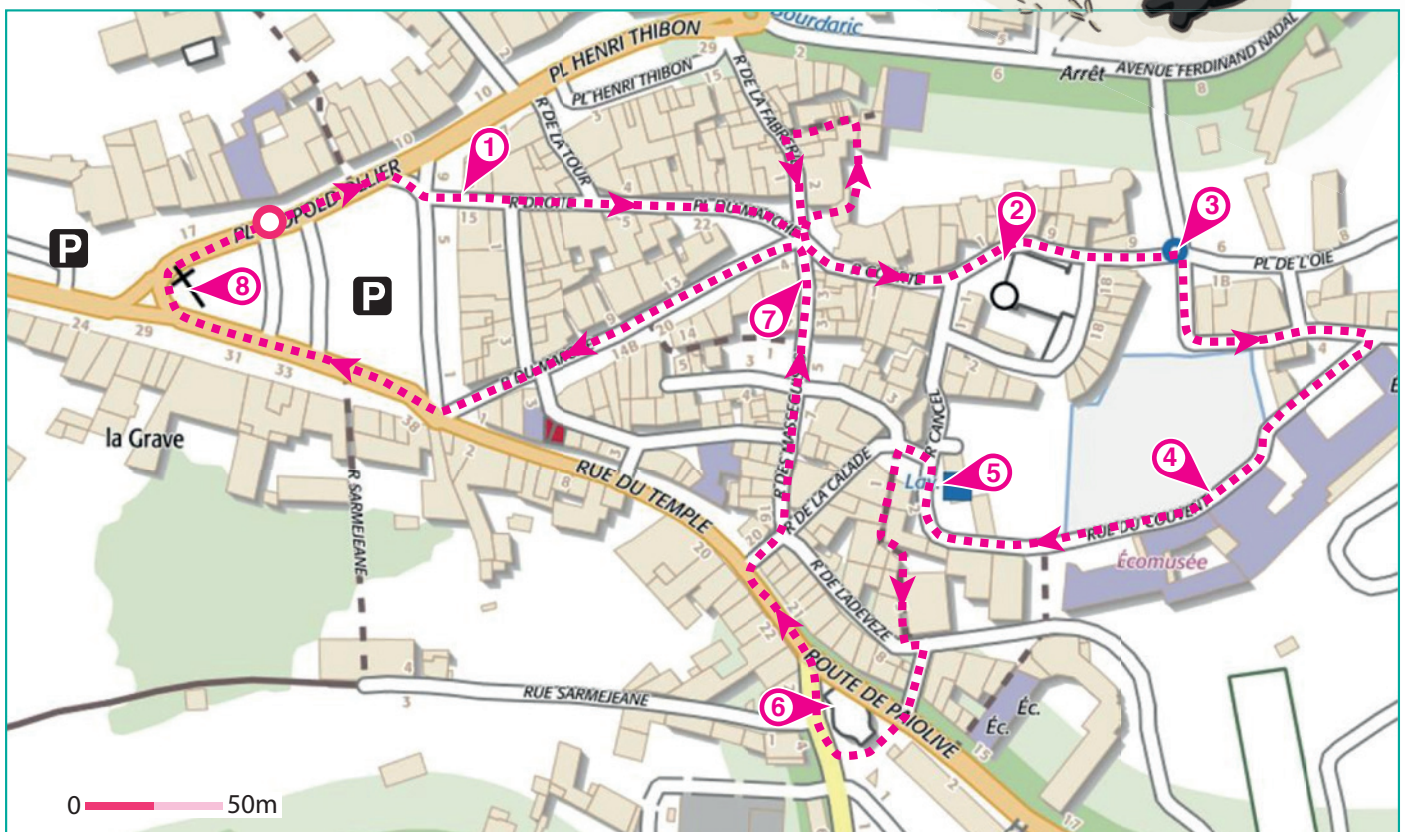
LISTE DE PERSONNAGES

- ▶ **Hector CARDE**, né le 7/02/1876 à Lyon.
- ▶ **Charles DALOK**, né le 19/10/1873 à Saint-Étienne.
- ▶ **Julien OCARD**, né le 7/07/1876 à Mende.
- ▶ **Achille GLORIA**, né le 23/09/1880 à Grenoble.
- ▶ **Richard MOCLAIR**, né le 12/06/1878 à Paris.
- ▶ **Arnaud VONCIRA**, né le 15/04/1875 à Nîmes.
- ▶ **Rolland BAROC**, né le 25/07/1882 à Hautefort.
- ▶ **Guillaume DOLUC**, né le 23/05/1874 à Montpellier.
- ▶ **Edmond LOCARD**, né le 13/12/1877 à Saint-Chamond.

Tu disposes du plan ci-dessous.

À l'emplacement des pastilles numérotées, lis les indications qui te permettront de résoudre l'énigme principale.

À la fin de ta balade, rends-toi à l'office de tourisme ou sur le site randoland.fr pour vérifier ta réponse.





Lors du passage devant chacun des indices lis attentivement les indications fournies. Elles te permettront de résoudre l'énigme posée au verso de cette page.

1 Rue Droite, n° 1

Une année est gravée sur le linteau de porte. Fais la somme de tous les chiffres qui la composent.

Ex. : $2019 = 2 + 0 + 1 + 9 = 12$

Un seul des personnages est né un jour correspond à ta réponse. Ce n'est pas celui que tu cherches. Tu peux le rayer de la liste.

2 L'église

Deux amis discutent de la vierge au-dessus de l'entrée de l'église :

ARTHUR : Ses deux bras sont dirigés vers le sol.

CÉDRIC : Pas du tout elle a les bras joints, comme si elle priait !

Note le prénom de celui qui dit la vérité dans les cases ci-après :

--	--	--	--	--	--

La lettre de la case bleutée n'est pas présente dans le nom de famille du personnage recherché. Barre celui qui a cette lettre dans son nom.

3 La fontaine

Voici des affirmations concernant cette fontaine. À toi de les déchiffrer.

LÉON : Le basin est rond et un agne fiat ppii deadns.

JUSTIN : L'eau coule de la guelle d'un loin.

BERNARD : L'eau coule de la bouche d'un homme a grandes oreilles.

Le prénom d'un seul personnage de la liste rime avec celui qui vrai. Ce n'est pas un ancien élève de Léopold Ollier. Tu peux l'éliminer.

4 Les tuiles vernissées du couvent

Parmi ces dessins, un seul correspond à la forme géométrique présente sur le petit toit. Lequel ?



COBRA



CRADO



RIGOLA

Le nom d'un seul personnage est une anagramme du mot inscrit sous la bonne photo. Ce n'est toujours pas celui que tu cherches. Tu peux le rayer.

Ex. : une anagramme d'AIMER est MAIRE

5 Le lavoir

Quel dessin correspond à l'arrivée d'eau du lavoir ?



$$938 \times 2$$



$$941 \times 2$$



$$940 \times 2$$

Résous l'opération notée sous le bon dessin.


Le personnage recherché n'est pas né au cours de cette année-là.

6 Le temple protestant

Combien de colonnes rondes comptes-tu à l'entrée du temple ? Quadruple ta réponse.

Maintenant remplace ton résultat par la lettre de l'alphabet qui lui correspond.

La ville de naissance du personnage recherché ne commence pas par cette lettre.



7 Rue des Masseguisses

Dans quelle expression peux-tu inscrire le nom du symbole gravé sur le linteau de fenêtre, au début de la rue ?

OCTOBRE : Aimer de tout son _____.

NOVEMBRE : Rester sur le _____.

DÉCEMBRE : Être fagoté comme l'as de _____.

Le personnage recherché n'est pas né au cours du mois inscrit devant la bonne expression.

8 La statue de Léopold Ollier

Dans quelle ville est mort Léopold Ollier ?

Le personnage recherché n'est pas né dans cette ville.

Tu devrais avoir retrouvé le **Circuit n° 0733401G** nom et le prénom de l'élève de Léopold Ollier.

Ta réponse: