

# Valmeinier

## Parcours d'Orientation Patrimonial




### 9 le fort du Télégraphe

Depuis ce point de vue, le fort du Télégraphe se distingue nettement, perché sur son arête rocheuse. Il a été construit entre 1885 et 1890 pour assurer la défense du territoire français. Pourquoi ce fort s'appelle-t-il ainsi ?

**BALISE 59**  
croix

- A** Parce qu'il était autrefois doté d'un télégraphe.
- B** Parce qu'il a été édifié là où se trouvait autrefois un télégraphe.
- C** Parce qu'un télégraphe a été retrouvé dans les caves du fort.



### 10 l'agriculture d'autrefois

Pour cultiver les terrains de montagne, souvent très pentus, les agriculteurs avaient trouvé une solution qui se voit encore dans le paysage aujourd'hui. De quoi s'agit-il ?

**BALISE 60**  
extrémité du talus

- A** Ils aménageaient des sentiers pour accéder aux champs.
- B** Ils construisaient des terrasses.
- C** Ils retiraient les cailloux du sol.

### 11 le domaine skiable Galibier Thabor

Le domaine Galibier Thabor regroupe les stations de Valloire et Valmeinier. Son nom fait référence aux deux sommets emblématiques de la région qui culminent à plus de 3000 mètres d'altitude. Combien de kilomètres de pistes le domaine compte-t-il ?

**BALISE 61**  
arbre

- A** 200
- B** 160
- C** 130

### 12 la chapelle de la Ville Dessus

Cette chapelle bâtie au XVII<sup>e</sup> siècle est dédiée à Saint François d'Assise. Elle est ornée d'une toile représentant le saint. Qui était François d'Assise ?

**BALISE 62**  
panneau

- A** Le fondateur de l'ordre chrétien des Franciscains.
- B** L'architecte de cette chapelle.
- C** Le seul moine de Maurienne à avoir été canonisé.




Scanner ce QR code pour découvrir les réponses.



## Comment ça marche ?

- 1- Orienter la carte et repérer le départ.
- 2- Choisir un itinéraire pour aller du départ à la balise ①.
- 3- Utiliser la pince pour poinçonner.
- 4- Répondre à la question du dépliant.
- 5- Continuer vers les balises suivantes en respectant l'ordre.



Bonne découverte !

## PARCOURS Patrimoine

Difficulté en orientation Facile  
Accès avril à novembre  
➡ 3 km | 12 balises  
⬆️ +120 m | ⌚ +/- 1h30

## Recommandations

Il est de la responsabilité de tout pratiquant d'estimer ses capacités à pouvoir pratiquer la course d'orientation sur cet espace.

- Pendant la période estivale, respectez les pâturages et les troupeaux.
- En période de chasse, il est conseillé de porter un vêtement visible.




L'application Suricate permet de signaler les problèmes que vous rencontrez lors de la pratique d'un sport de nature (erreur de balisage, besoin de sécurisation...)

Numéro d'urgence 112



# Parcours d'orientation patrimonial de Valmeinier



Échelle : 1/4000°  
1 cm représente 40 m  
Dénivelé entre  
2 courbes de niveau : 5 m

**LEGENDE**

△	Départ
○	Balise
🏠	Office de Tourisme
■	Bâtiment
■	Propriété privée
—	Route, parking
—	Escaliers
—	Chemin
—	Sentier
—	Clôture
—	Remontée mécanique
+	Croix
×	Objets particuliers
—	Ruisseau
■	Pelouse, prairie
■	Arbres dispersés
■	Forêt, traversée facile
■	Végétation
○	Arbre isolé
—	Courbe de niveau
—	Talus
•	Rocher

Carte de course d'orientation 2023 /  
Cartographie : Franck Dechavanne /  
La reproduction de l'ensemble  
des supports cartographiques est  
autorisée pour l'usage unique de  
ce parcours permanent à l'exclusion de  
tout autre usage. Cet équipement a été  
mis en place avec l'assistance technique  
de la Ligue Auvergne-Rhône-Alpes de  
Course d'Orientation et du CDCO 73 /  
Crédit photo (couverture) : A. Pernet - OT  
Valmeinier / Edition 2024

**BALISE 51**  
lampadaire

## 1 les vieux balcons

De nombreuses maisons anciennes de Valmeinier possèdent de grands balcons en bois. À quoi servaient-ils ?


- A** Se détendre après les travaux agricoles.
- B** Sécher le foin après la récolte.
- C** Stocker des récoltes pour les conserver à l'abri des intempéries ou des nuisibles.

**BALISE 52**  
lampadaire

## 2 les lauzes

Les toits de Valmeinier sont fréquemment couverts de lauzes, que l'on dispose en diagonale en Maurienne (alors que la pose est droite en Tarentaise). Qu'est-ce que la lauze ?

- A** Une pierre plate utilisée comme matériau de couverture pour les toits.
- B** Une grande tuile en céramique imitant la pierre.
- C** Une pierre extraite localement, taillée et utilisée pour couvrir les toits.



**BALISE 53**  
barrière en bois

## 3 la rue de l'ancienne mairie

Les maisons et les murs de Valmeinier sont souvent construits à l'aide des pierres locales. Quelle est la pierre la plus utilisée ?

- A** Le calcaire
- B** Le schiste
- C** Le granit

**BALISE 54**  
lampadaire

## 4 la naissance du ski à Valmeinier

Pour remédier au départ des habitants vers la ville et à la disparition de l'activité agricole, Valmeinier a décidé de créer une station de sports d'hiver en 1971. Le premier télésiège a été mis en service en 1974. Le télésiège de l'Arméra, a un itinéraire étrange : il descend ! Pourquoi ?

- A** Pour que les débutants n'aient pas une piste trop raide à dévaler.
- B** Pour donner accès au secteur du Crey du Quart.
- C** Pour relier les deux versants de la vallée.



## 5 l'eau à Valmeinier

Pour s'adapter au changement climatique et optimiser l'enneigement du domaine skiable, la station de Valmeinier produit de la neige de culture grâce à des enneigeurs. Ces derniers propulsent dans l'air des gouttelettes d'eau qui, grâce aux faibles températures, se transforment en flocons. Avec quelle ressource la neige de culture est-elle produite ?

- A** De l'eau additionnée d'une substance accélérant sa transformation en flocons.
- B** De l'eau potable.
- C** De l'eau naturelle récupérée tout au long de l'année dans des réservoirs.

## 6 la forêt de Valmeinier

Cette balise se situe au cœur de la forêt qui se compose essentiellement ici de feuillus, autrement dit d'arbres portant des feuilles (chêne, hêtre, bouleau...), par opposition aux résineux (sapin, pin, épicéa...). Pour quelle raison ce type d'arbres domine-t-il à cet endroit ?

- A** Parce que l'altitude leur est favorable.
- B** Parce que le climat permet à certaines essences de prospérer.
- C** Parce qu'ils ont été plantés par l'homme.

## 7 les mélèzes

Les conifères ne sont pas absents de la forêt de Valmeinier, loin de là ! Ils sont même très nombreux dès que l'altitude augmente ou que l'orientation change. On voit ici des mélèzes. Quelle est leur principale particularité ?

- A** Leurs fruits sont des cônes.
- B** Ils portent des feuilles et non des aiguilles.
- C** Leurs aiguilles jaunissent et tombent à l'automne.

## 8 le barrage de Bissorte

Cette petite route mène au barrage et à la retenue d'eau de Bissorte. Ce barrage a été construit entre 1931 et 1938. Il est désormais la 4<sup>e</sup> plus puissante centrale de France. Pourquoi ce barrage a-t-il été initialement construit ?

- A** Pour alimenter en électricité les villages de Maurienne.
- B** Pour éviter que les torrents provoquent des inondations.
- C** Pour alimenter en électricité les usines de la vallée.



**BALISE 55**  
petit bâtiment

**BALISE 56**  
près du rocher

**BALISE 57**  
limite de végétation

**BALISE 58**  
intersection