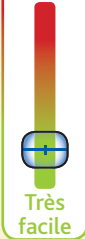




Rhône

# Montrottier

Très difficile



Très facile

1h30



2,5 km

Place du Suel de la Dîme

1440 habitants - Montrottier se situe dans les Monts du Lyonnais à 45 km de Lyon, à une altitude de 700 m



## Montrottier village pittoresque des Monts du Lyonnais

Montrottier à travers son histoire a toujours été un lieu de passage et de commerce sur la route menant de la vallée du Rhône à la plaine de la Loire.

Déjà au cours du Moyen-Age, pendant la Guerre de cent ans, les rois instaurent progressivement Montrottier comme un haut lieu de marché sur cette voie commerciale allant de l'Arbresle à Feurs. Il y est marchandé bestiaux, céréales, bois et foin.

En 1693, le roi Louis XIV confirme l'importance de ce lieu comme espace prospère pour le commerce. C'est à cette époque que les halles sont construites, bâtiment existant aujourd'hui encore comme lieu de rassemblement (salle des fêtes).

Très rapidement, au cours du XIX<sup>e</sup> siècle, sous l'influence de la capitale lyonnaise, les métiers à tisser, la soie s'y installent également. Dès cette époque, Montrottier se tourne définitivement de manière plus prononcée vers Lyon et la vallée du Rhône.

### Une attractivité touristique importante

Montrottier est le départ de nombreux sentiers de randonnées :


- L'observatoire des paysages : ces parcours vous permettent d'apprendre à lire les paysages et les éléments qui les composent tout en vous montrant leur évolution au fil du temps.
- Le sentier muletier : circuit thématique aménagé pour être accompagné d'un âne, d'une mule ou à cheval.
- 4 départs de sentiers VTT : une référence des circuits VTT de l'ouest lyonnais.
- Une boucle de cyclotourisme
- Plusieurs sentiers de randonnées du département, depuis la place de la Dîme, où une maison des marcheurs accueille les randonneurs.
- La visite interactive du bourg pittoresque, visite unique dans le Rhône permettant de découvrir grâce à son smartphone l'évolution du village de Montrottier.
- Un circuit bois trial VTT
- Une aire de service camping-car.
- Un site classé à l'inventaire supplémentaire des monuments historiques : la chapelle Saint Martin.
- Etape du « Circuit moto des Monts du Lyonnais ».

Monts du.  
Lyonnais  
Office de  
Tourisme

Office du Tourisme des Monts du Lyonnais  
Le Pontet

69930 Saint-Laurent-de-Chamousset  
Tél. 04 74 70 90 64

Mail : [tourisme@cc-montsdulyonnais.fr](mailto:tourisme@cc-montsdulyonnais.fr)  
[www.tourisme.cc-montsdulyonnais.fr](http://www.tourisme.cc-montsdulyonnais.fr)



Mairie de Montrottier

Le Bourg, 69770 Montrottier

Tél. : 04 74 70 13 07



## Road-book

*Soyez vigilants avec vos enfants notamment sur les zones non piétonnes. Le parcours s'effectue sous votre entière responsabilité. La Mairie de Montrottier et la société Randoland déclinent toute responsabilité en cas d'accident.*

Débuter la balade de la place du Suel de la Dîme. Remarquer les gros arbres près de la croix **1**. Emprunter, à droite, la rue de la Dîme. Consulter la plaque d'informations n° 7, la maison des remparts. Emprunter de suite à droite le petit passage sous le porche (balisage blanc-rouge) qui débouche sur la place de la Basse-Cour. Prendre connaissance du panneau n° 8 (7/9 ans et + 10 ans) **2**. Remarquer au centre de la place l'ancienne pompe à eau **2** (4/6 ans). Longer la porte de l'entrée de l'église, tourner à gauche et quitter la place de la Basse-Cour par le Passage du Porche, ancienne porte de l'enceinte fortifiée, qui débouche sur la rue des Remparts. Tourner à droite, passer devant le Monument aux morts et longer l'entrée de la

salle des fêtes puis tourner à gauche et descendre les escaliers jusqu'à la place de la Pompe. Tourner à droite dans la Grand'Rue puis s'arrêter à l'angle de la rue de l'École. Lever les yeux et remarquer l'ancienne plaque directionnelle **3**. Traverser prudemment la Grand'Rue et descendre la rue du Stade (direction stade-salle des sports). Tourner ensuite à gauche pour se rendre vers l'Espace ludique VTT **4**. Descendre ensuite à droite sur la petite route. Poursuivre jusqu'au croisement suivant. Remarquer le gros arbre, en face sur le talus **5**. Tourner alors à droite. Continuer jusqu'au prochain chemin sur la droite, en direction de la Chapelle. S'arrêter devant le panneau "Montrottier : la zone humide" **6**.

Poursuivre jusqu'à la Chapelle St-Martin (Entrée équipée d'un digicode, possibilité d'avoir le code d'accès pour visiter l'intérieur de la chapelle sur demande au 04 74 70 90 64 ou au 04 74 70 13 07). Remarquer les différentes pierres tombales disposées derrière dans la chapelle **7**. Continuer vers la croix puis tourner à droite (route de St-Martin). Continuer jusqu'à la ferme (circuit des fermes 2) **8**. Au niveau du stade, prendre le chemin Thimonier à gauche, barré par une grosse pierre, qui rejoint la route de Feurs. Traverser prudemment et continuer à droite jusqu'à la prochaine intersection. Tourner à gauche puis à droite (direction Vieux Bourg) pour revenir au point de départ.





L'inspecteur Rando souhaite se rendre au plus près de la sorcière. Mais par où va-t-il passer ?

Trace le chemin emprunté par l'inspecteur Rando en utilisant les informations de la page suivante. Chaque fois que l'inspecteur Rando empruntera une échelle rouge, colorie, dans l'ordre, les chapeaux de sorcière de la frise en bas de page. En fin de parcours, note dans la case réponse le nombre de chapeaux coloriés.

4/6  
ans



© randoland 2016. Illustrations : Armelle Drouin.

Tu peux te rendre à la Mairie ou sur le site [www.randoland.fr](http://www.randoland.fr) pour vérifier ta réponse (code énigme 69139901P).

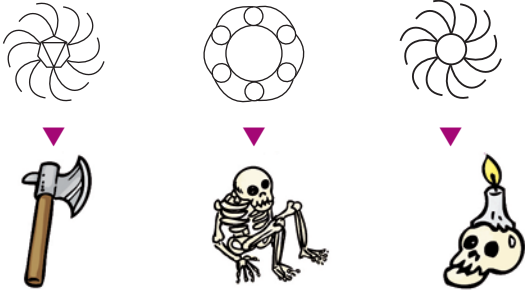


Ta réponse



### 1 La croix

Quel symbole retrouves-tu sur la croix ?  
Tu vas découvrir la première étape de l'Inspecteur Rando.



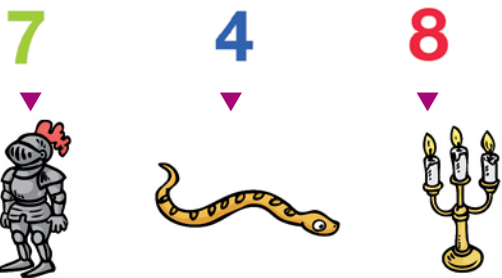
### 2 Les pompes

Quelle photo correspond à la pompe qui se trouve à la Basse-cour à côté de l'église ?



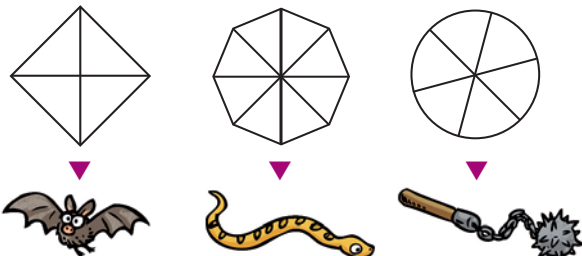
### 3 La plaque de la Grand'Rue

Quel chiffre n'est pas visible sur la plaque de la Grand'Rue ?




### 4 Les ateliers VTT

Quelle forme correspond à l'atelier 11 "l'étoile" ?




### 5 Le gros arbre

Quelle feuille correspond à celle de cet arbre ?




### 6 La zone humide

Parmi les animaux ci-dessous, lequel n'est pas représenté sur le panneau ?



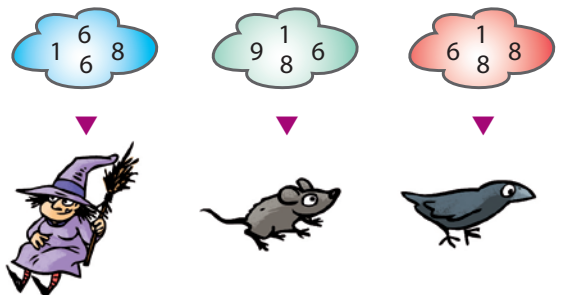
### 7 La Chapelle St-Martin

Que reconnais-tu sur la pierre tombale de M. Louis Antoine LAURENT ?



### 8 La ferme

Quel nuage de chiffres te permet de reconstituer la date gravée sur le linteau ?





## ÉNIGME

Tous les dimanches de Pâques, les poules de Montrottier se mettent à pondre des œufs par milliers dans tous les coins de la commune. Si vous trouvez ces œufs frais, ils sont à vous.



Chaque année plus de 10 000 visiteurs viennent parcourir les rues du village à la recherche de ces nombreux œufs.

Avec l'aide de l'Inspecteur Rando, arriveras-tu à retrouver le prénom d'une jeune du village qui a réussi à rapporter un nombre incalculable d'œufs ?

Tu disposes du plan ci-dessous.

À l'emplacement des points rouges, lis les indications qui te permettront de résoudre l'énigme principale.

À la fin de ta balade, rends-toi à la Mairie ou sur le site [randoland.fr](http://randoland.fr) pour vérifier ta réponse.



7/9  
ans



Pour toutes les activités de cette fiche, reporte dans la grille de bas de page les réponses trouvées en face des nombres correspondants.

### 1 Les arbres

L'Inspecteur Rando a demandé à trois enfants de prendre en photo les feuilles de ces arbres. Reporte dans la grille le prénom du bon photographe.



Léana

Timéo

Jules

### 2 La place de la Basse-Cour

Lis l'inscription du panneau n° 8 puis recopie les lettres correspondant au code suivant (le titre ne fait pas partie du code)

6-9 ; 3-8 ; 4-1 ; 5-4 ; 2-2 ; 2-10

où le chiffre en vert t'indique le n° de la ligne et le chiffre en bleu la position de la lettre dans la ligne.

Ex. : 1-6 indique la 6<sup>e</sup> lettre de la 1<sup>re</sup> ligne : T  
Reporte ta réponse dans la grille.

### 3 La plaque de la Grand'Rue

L'Inspecteur Rando souhaite se rendre à Longessaingne.

Combien de kilomètres doit-il parcourir ?

Reporte dans la grille le chiffre des unités de ta réponse, en toutes lettres.

### 4 Les ateliers VTT

Place-toi devant le panneau du module 3 : le champ de bosses.

Sur le dessin, quelle est la couleur de la flèche qui indique le chemin de gauche ?

Reporte les lettres composant ta réponse mais dans l'ordre alphabétique.

Ex. : BLANC → ABCLN



### 5 Le gros arbre

L'Inspecteur Rando a demandé à trois enfants de prendre en photo l'écorce de ce gros arbre. Reporte dans la grille le prénom du bon photographe.



Justine

Morgane

Pauline

### 6 La zone humide

Reporte dans la grille le mot effacé sur la photo ci-contre.

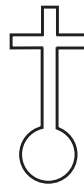


### 7 La Chapelle St-Martin

Reporte dans la grille le mois de décès de l'Abbé François Nicolas.

### 8 La ferme

Parmi les dessins ci-dessous, lequel correspond à l'ouverture visible sur la tour de la ferme ? Reporte dans la grille le prénom du bon dessinateur.



Lola



Emma



Théo

### Grille réponse

Circuit n° 6913901M

1 >										
2 >										
3 >										
4 >										
5 >										
6 >										
7 >										
8 >										

Remets en ordre les caractères des cases colorées pour retrouver le prénom recherché.

Ta réponse:



## ÉNIGME

À l'époque de la Renaissance, la ville de Montrottier a connu de nombreuses rénovations : le château prieuré fut restauré, la chapelle de Notre-Dame du prieuré agrandie et l'église paroissiale de Saint Martin a subi de nombreux travaux.

Tous ces travaux sont l'œuvre d'une seule personne.

À l'aide des indices, parviendras-tu à retrouver l'identité du personnage qui a marqué l'histoire de Montrottier ?



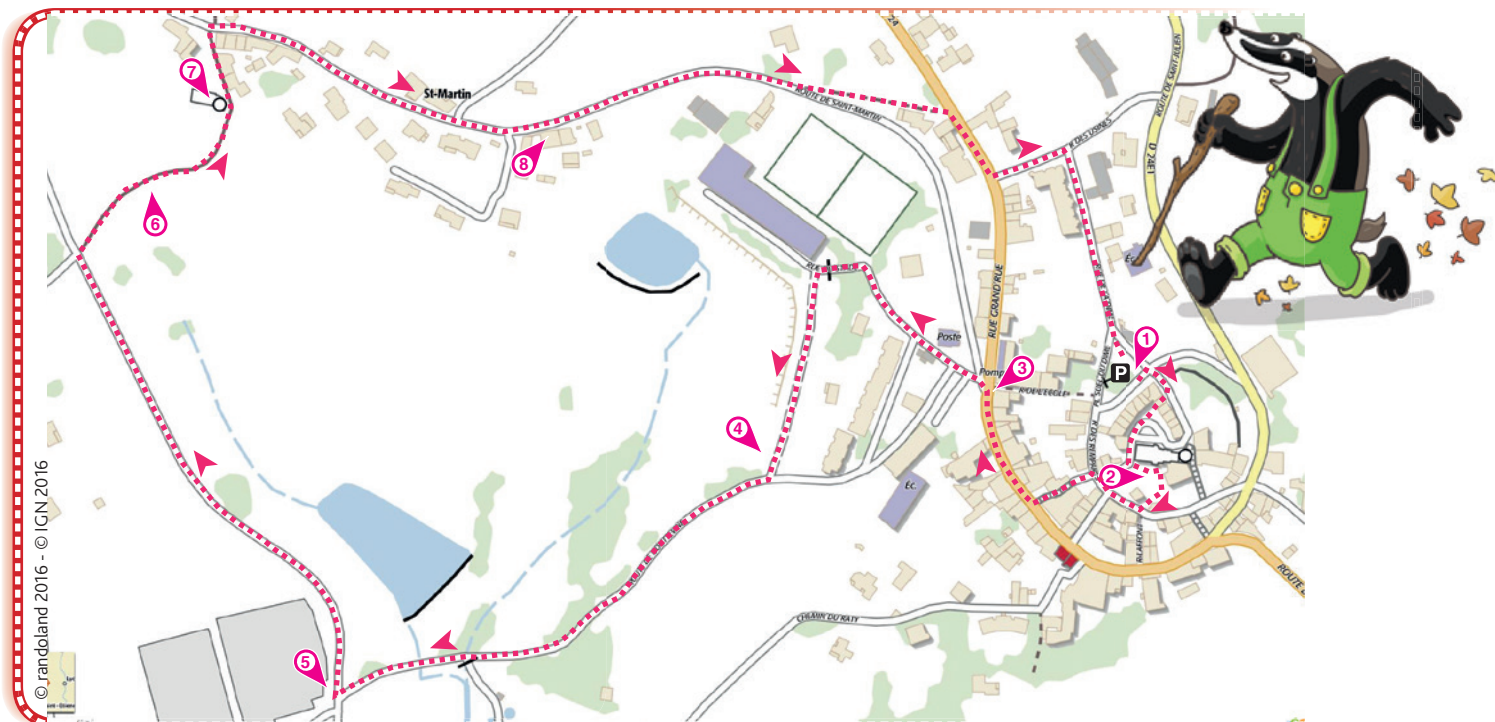
## LISTES DES PERSONNAGES

- ▶ **Guillaume Budé**, né en 1468 et mort en 1540.
- ▶ **François Clouet**, né en 1515 et mort en 1572.
- ▶ **Nicolas Copernic**, né en 1473 et mort en 1543.
- ▶ **Guichard De Pavis**, né en 1457 et mort en 1524.
- ▶ **Jacques Lefèvre**, né en 1455 et mort en 1537.
- ▶ **Andrea Mantegna**, né en 1431 et mort en 1506.
- ▶ **Jean Molinet**, né en 1435 et mort en 1507.
- ▶ **Thomas More**, né en 1478 et mort en 1535.
- ▶ **Maurice Scève**, né en 1505 et mort en 1562.

Tu disposes du plan ci-dessous.

À l'emplacement des points rouges, lis les indications qui te permettront de résoudre l'énigme principale.

À la fin de ta balade, rends-toi à la mairie ou visite le site [www.randoland.fr](http://www.randoland.fr) pour vérifier ta réponse.



Lors du passage devant chacun des indices lis attentivement les indications fournies. Elles te permettront de résoudre l'énigme posée au verso de cette page.

### 1 Les arbres

À l'aide des différentes descriptions ci-dessous, retrouve le nom des arbres.

**Chêne** : Le bord des feuilles est lobé ou denté. Le fruit est le gland et son écorce est de couleur grise.

**Tilleul** : Son écorce est gris-brun et ses feuilles ont un contour circulaire, en forme de cœur.

**Saule-Pleureur** : Ses feuilles sont longues et étroites et ses branches sont très flexibles : on parle de branche-lianes.

L'initiale de ta réponse n'est pas la même que celle du prénom de la personne recherchée.

### 2 La place de la Basse-Cour

Quel nom donnait-on à ce passage, qui permettait aux habitants de Montrottier de se réfugier dans l'enceinte du château ?

Compte le nombre de lettres de ta réponse.

Ce chiffre n'est pas présent dans l'année de naissance de la personne recherchée.

### 3 La plaque de la Grand'Rue

Dans quelle ville te rendrais-tu si tu parcourais 7,1 km ?

Le nom de famille de la personne recherchée ne rime pas avec ta réponse.

### 4 Les ateliers VTT

Thibault est de niveau débutant, Lucas de niveau moyen et Anaïs a le niveau expert. Parmi les modules 1, 3, 4, 6, 7, 8 et 9, retrouve le numéro des deux modules qui sont accessibles aux trois copains.

Au moins l'un des deux chiffres est présent dans l'année de mort de la personne recherchée.



### 5 Le gros arbre

Grâce à l'aide ci-dessous, retrouve le nom de ce gros arbre.

Au moins une des consonnes de ta réponse est présente dans le prénom de la personne recherchée.

**AIDE**

Les écorces



Pin



Bouleau



Noyer

### 6 La zone humide

Lis le paragraphe concernant la faune et la flore à préserver puis recopie les lettres correspondantes au code suivant

**2-9 ; 3-4 ; 4-4 ; 1-7 ; 3-12 ; 3-5 ; 4-9 ; 5-5**

où le chiffre en **vert** t'indique le n° de la ligne et le chiffre en **bleu** la position de la lettre dans la ligne.

Ex. : **1-5** indique la **5<sup>e</sup>** lettre de la **1<sup>re</sup>** ligne : U

Tu viens de découvrir un nom de famille qui n'est malheureusement pas celui de la personne recherchée.

### 7 La Chapelle St-Martin

Le prénom de la personne recherchée ne figure pas sur la pierre tombale de la personne qui fut notaire royal à Montrottier et qui est décédée le 19 septembre 1839.

### 8 La ferme

Soustrais 200 à la date gravée sur le linteau.

L'année de naissance de la personne recherchée est inférieure à ta réponse.

Circuit n° 6913901G

Tu devrais avoir retrouvé le nom du personnage recherché.

Ta réponse : .....