

C'est l'implantation du village qui a permis à la commune de Valsonne de s'appeler ainsi.

La vallée étant enclavée, de nombreuses personnes ont noté son écho. Lorsqu'il retentit, on dit que c'est "le Val qui sonne". (En fait, c'est l'écoulement du ruisseau de la Soanne qui résonne, d'où le nom de Valsonne).

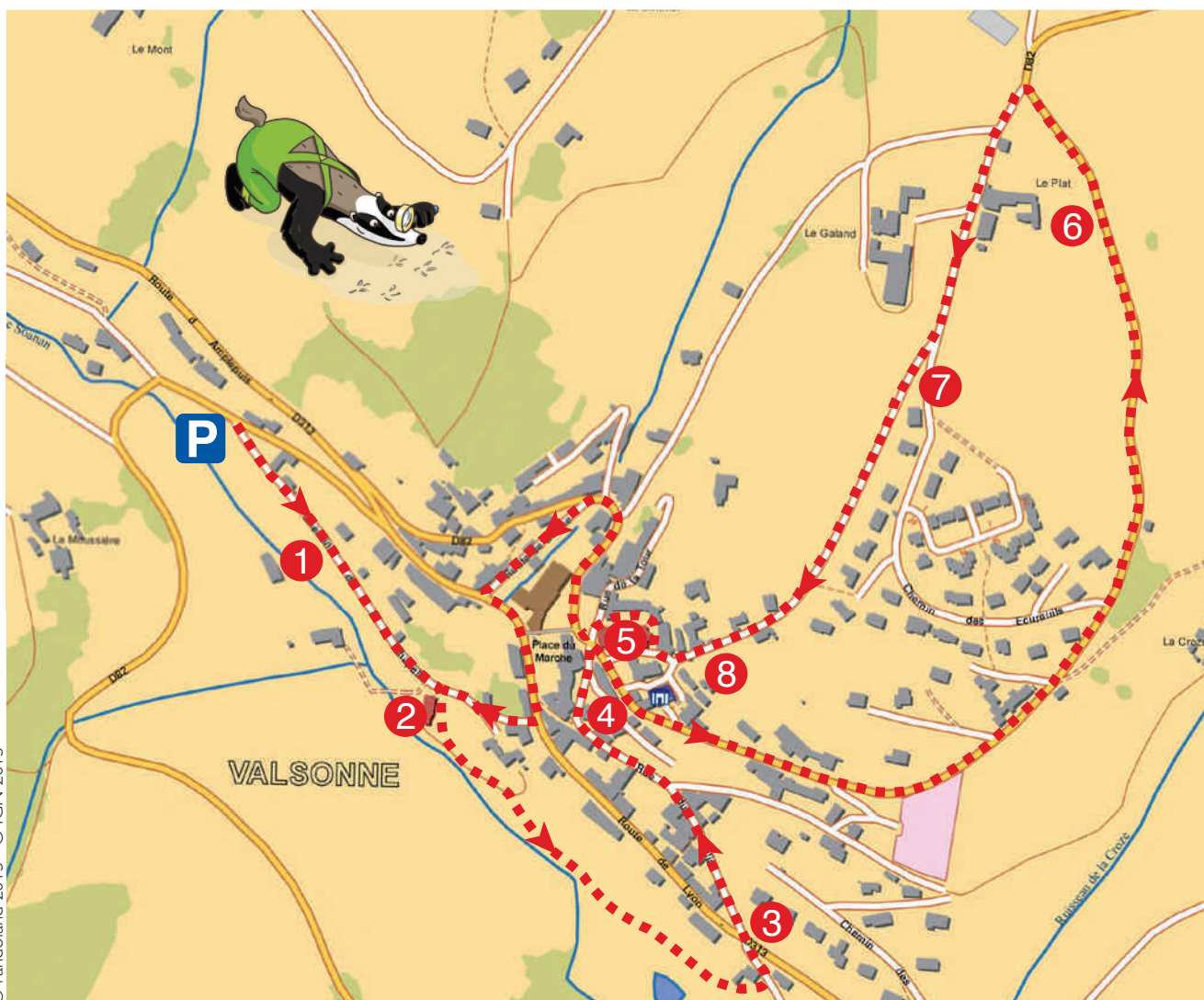
L'inspecteur Rando vient de l'apprendre en suivant une visite guidée organisée par l'Office de Tourisme du Pays de Tarare. Il te propose de l'accompagner et de partir à la découverte de l'origine du nom de la commune. Sauras-tu retrouver son nom d'autrefois ?



Tu disposes du plan ci-dessous. À chaque point indice, lis bien les indications de la page suivante et reporte tes réponses sur la grille en bas de page.

Remets ensuite les caractères des cases colorées dans l'ordre pour retrouver l'origine du nom de la commune de Valsonne.

À l'Office de Tourisme ou sur le site [randoland.fr](http://randoland.fr), tu pourras vérifier si tu as trouvé la bonne réponse.



Pour toutes les activités de cette fiche, reporte dans la grille de bas de page les réponses trouvées en face des nombres correspondants.

## 1 Le Vieux moulin


Examine la façade du Vieux moulin, de la route. Sans compter celles du rez-de-chaussée, combien de fenêtres vois-tu ?  
Inscris ta réponse dans la grille, en toutes lettres.

## 2 La chapelle


Le personnage féminin sculpté au-dessus de l'entrée de la chapelle tient-il l'autre personnage avec sa main gauche ? ou avec sa main droite ?  
Reporte ta réponse dans la grille.

## 3 La croix du Rolin


Retrouve l'année inscrite sur le socle de cette croix et ajoute tous les chiffres entre eux. Quel groupe de dominos affiche le même total que ton résultat ?  
Écris, dans la grille, le prénom de l'enfant possédant ce groupe de dominos.



Adeline



Bastien




Charly

## 4 La placette

Descends les marches qui se trouvent sous les escaliers du balcon de cette place pour découvrir le four à pain. Quel est le principal matériau qui a servi à sa fabrication ?  
Note ta réponse dans la grille, au pluriel !

## 5 L'église

Un élément du clocher de l'église a été masqué sur la photo ci-contre, sous le rectangle jaune.  
De quel élément s'agit-il ?  
Inscris ta réponse dans la grille.



## 6 « À la petite ferme du Plat »

Quel est le nom de la famille des animaux qui sont le plus élevés dans cette ferme ?  
Écris ta réponse dans la grille.

## 7 Le point de vue

Quentin, Oriane, Nicolas et Corinne ont profité de cette balade pour prendre de nombreux clichés. Voici ceux pris juste avant de redescendre au village. Cependant, une photo n'a pas été prise ici. Laquelle ? Reporte le prénom de son photographe dans la grille.



Quentin



Oriane



Nicolas



Corinne

## 8 La croix Immaculée conception

Lequel de ces calculs ne te permet pas de retrouver le nombre total de fleurs sculptées sur cette croix ? Note dans la grille la lettre correspondant à ta réponse.

A)  $20 - 4 - 4 - 10$

B)  $12 + 4 - 9$

C)  $4 + 3 + 10 - 10$

Place les lettres en fonction de la couleur de leur case pour retrouver l'origine du nom du village.

### Grille réponse

1	▶							
2	▶							
3	▶							
4	▶							
5	▶							
6	▶							
7	▶							
8	▶							

TA RÉPONSE

Énigme 6924501M

