

Le Beaujolais Vert Nature est une terre d'accueil pour la faune et la flore. Tout l'année on peut y observer différents éléments constituant le paysage.

Sur le territoire du pays de Tarare, on retrouve une espèce protégée particulière. C'est un animal dont la taille adulte maximale est de 9 à 12 cm et le poids de 30 à 90 g.

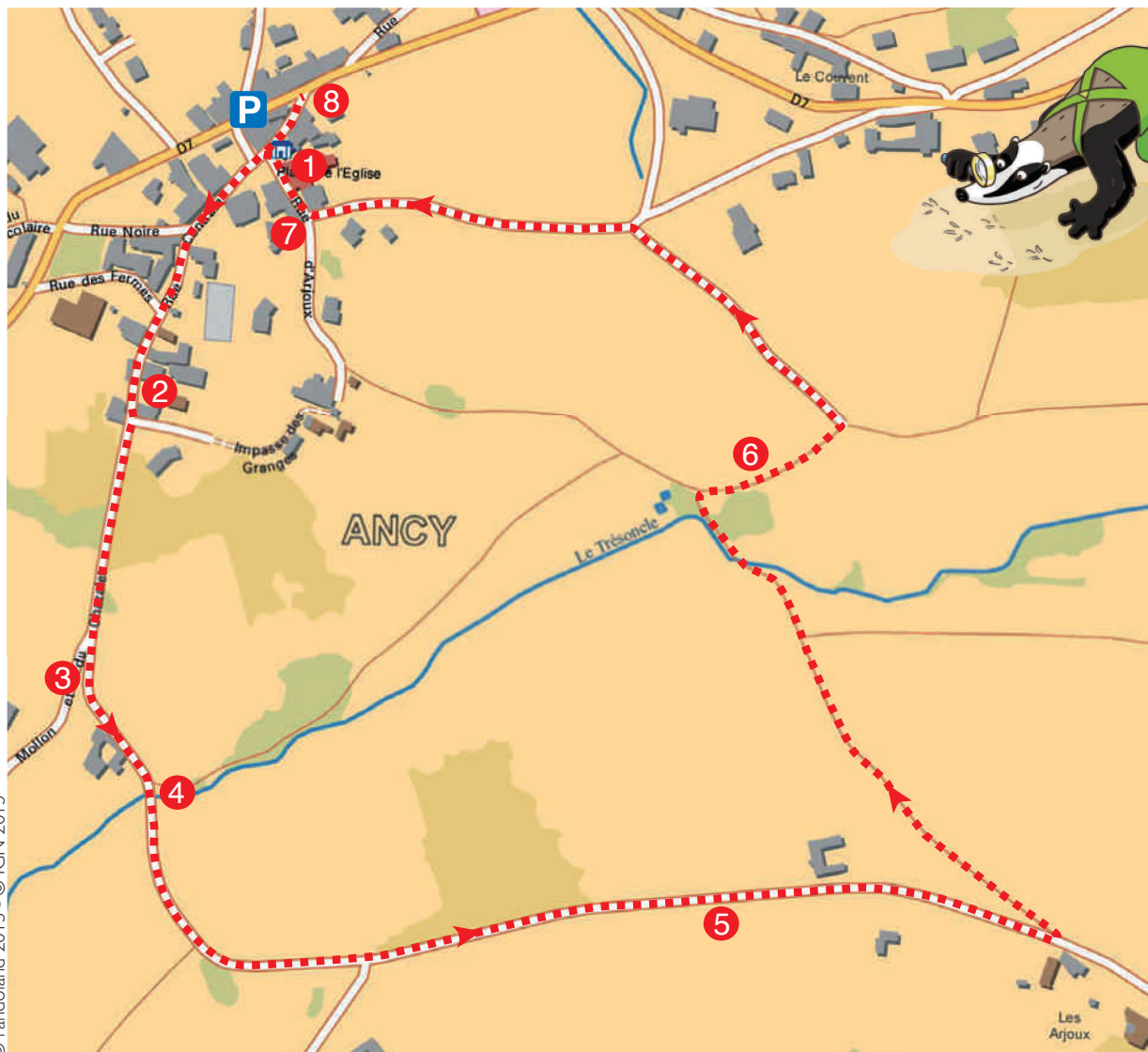
L'inspecteur Rando qui est en vacances à Ancy chez son cousin, souhaiterait découvrir cette espèce protégée, mais il ne sait rien à son sujet.

Sauras-tu l'aider à trouver le nom cet animal ?



Tu disposes du plan ci-contre. À chaque point indice, lis bien les indications de la page suivante et reporte tes réponses sur la grille en bas de page. Remets ensuite les caractères des cases colorées dans l'ordre pour retrouver le nom de l'animal recherché.

À l'Office de Tourisme ou sur le site [randoland.fr](http://randoland.fr), tu pourras vérifier si tu as trouvé la bonne réponse.



Pour toutes les activités de cette fiche, reporte dans la grille de bas de page les réponses trouvées en face des nombres correspondants.

## 1 La place de l'église

Lequel de ces calculs ne te permet pas de retrouver le nombre de personnages que tu peux voir sur la fresque au-dessus de la porte d'entrée de l'église ? Note dans la grille la lettre correspondant à ta réponse.

- A)  $20 - 10 + 4 - 8$
- B)  $12 + 4 - 10$
- C)  $4 + 3 + 10 - 10$

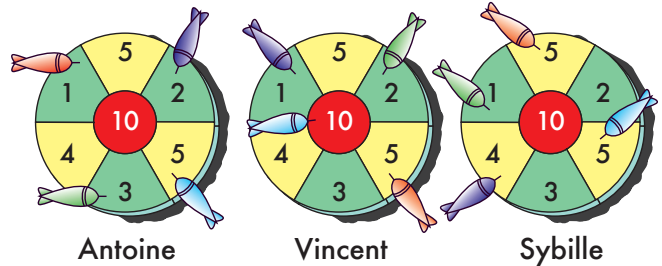
## 2 La maison aux pierres dorées

L'inspecteur Rando a demandé à trois touristes de lui décrire la maison. Cependant, pour lui compliquer la tâche, ils ont remplacé leurs voyelles par une seule et même voyelle. Aide l'inspecteur à décoder leurs affirmations et retrouve celui qui dit faux. Reporte ensuite son prénom dans la grille.

- CAROLINE : In piit viir diix cilinnes diriis di firmis irriindiis.
- VALENTIN : L'antraa ast farma par an partaal an baas.
- CORENTIN : Un puut vuur unu muzzuzunu.

## 3 La croix de Murye

Retrouve la date gravée au pied de la croix et ajoute les différents chiffres de l'année entre eux. Antoine, Vincent et Pauline viennent de terminer une partie de fléchettes. En rentrant chez eux l'un d'entre eux se rend compte que son score est égal à ton résultat. Reporte son prénom dans la grille.



## 4 La passerelle


Écris dans la grille la deuxième voyelle du nom anglais de la couleur de la barrière de la passerelle.

### Aide

Couleur en anglais :  
blue = bleu  
green = vert  
red = rouge

## 5 Le point de vue

Thibaud et Quentin ont effectué cette balade. À leur retour, ils contemplent leurs photos. Une seule a été prise du point de vue. Laquelle ? Inscris le prénom du bon photographe dans la grille.



Thibaud



Quentin

## 6 Le verger

Trois enfants ont proposé un encadrement du nombre d'arbres fruitiers que tu peux observer dans ce verger :

- MARINE :  $15 < \dots < 25$
- MANON :  $30 < \dots < 45$
- SOPHIE :  $50 < \dots < 60$

Écris le prénom de l'enfant qui a raison dans la grille.

## 7 L'année inscrite

Repère l'année inscrite sur le linteau. Ajoute le chiffre des centaines avec celui des unités. Inscris ensuite ton résultat dans la grille, **en toutes lettres**.

## 8 Le blason

Regarde à gauche après le porche. Tu peux voir l'ancien couvent.

Vrai ou faux ?

Sur le mur du couvent, on retrouve des pierres dorées qui représentent la même forme que le porche sous lequel tu te trouves.

Écris ta réponse dans la grille.

Place les lettres en fonction de la couleur de leur case pour retrouver le nom de l'animal recherché.

### Grille réponse

1	▶	Orange							
2	▶	Blue							
3	▶	Orange						Brown	
4	▶	Grey							
5	▶			Red					
6	▶	Pink							
7	▶		Green						
8	▶		Purple						



TA RÉPONSE

Énigme 6900801M

